

PROBA ESPEZIFIKOA

201(ko PROBA

**MARRAZKETA
TEKNIKOA**

PROBA

ERANTZUNAK





Azalpenak

Probaren iraupena: **ordubete**

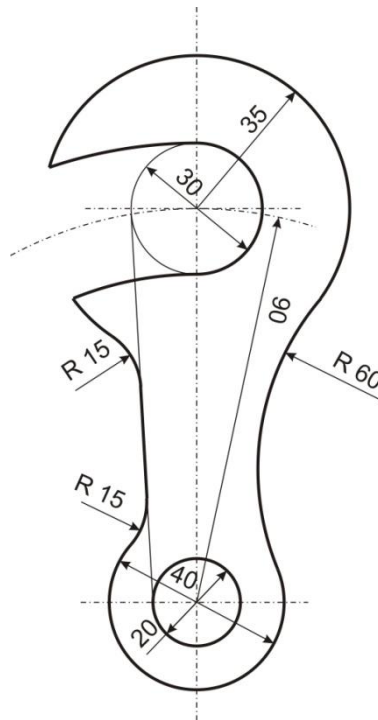
Azterketa honek bi aukera ditu. Haietako bat erantzun behar diozu.

A AUKERA – 10 puntu:

Beheko forma geometrikoa ez dago eskalan marraztuta.

Hau egin behar duzu:

- Forma hori 1:1 eskalan marraztu.
- Behar diren marrazki laguntzaile guztiak adierazi, eta ukitze-puntuak markatu.



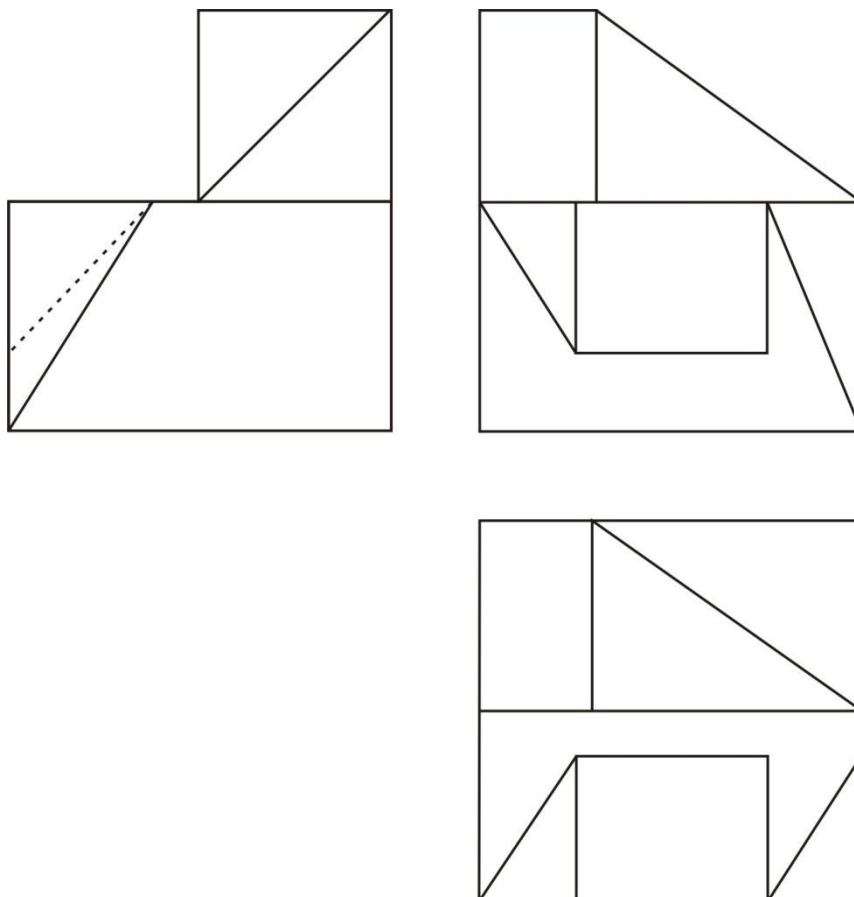


B AUKERA – 10 puntu:

Beheko proiektzio diedriko hauek aurpegi lauako solido bati dagozkio.

Hau egin behar duzu:

- Solidoaren perspektiba isometrikoa marraztu, neurriak zuzenean laginetik hartuta eta murrizte-koefizienterik kontuan hartu gabe. Ikusten ez diren lerroak ere marraztu behar dira.





Universidad del País Vasco
Euskal Herriko Unibertsitatea

UNIBERTSITATERA SARTZEKO
HAUTAPROBAK 25 URTETIK
GORAKOAK

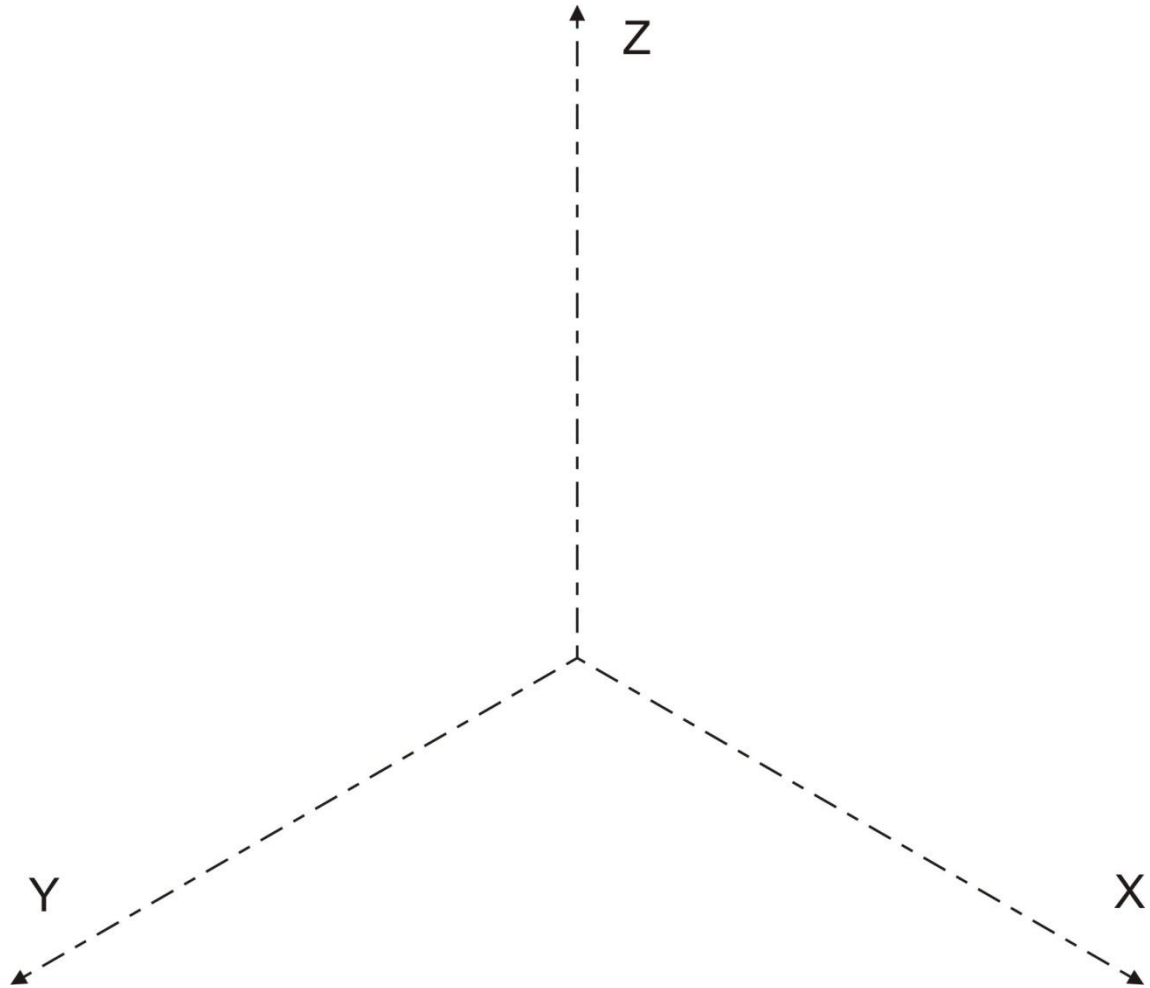
2014ko MAIATZA

MARRAZKETA TEKNIKOA

*PRUEBAS DE ACCESO A LA
UNIVERSIDAD PARA MAYORES
DE 25 AÑOS*

MAYO 2014

DIBUJO TÉCNICO





Universidad del País Vasco
Euskal Herriko Unibertsitatea

UNIBERTSITATERA SARTZEKO
HAUTAPROBAK 25 URTETIK
GORAKOAK

2014ko MAIATZA

MARRAZKETA TEKNIKOA

PRUEBAS DE ACCESO A LA
UNIVERSIDAD PARA MAYORES
DE 25 AÑOS

MAYO 2014

DIBUJO TÉCNICO

EBAZPENA

A AUKERA

Geometria lauko problemak grafikoki ebaztea: 10 puntu.

Planteamendu zuzen egitea: aurkezten den galdera ulertzea, proposatutakora doitzea...	<i>2 puntu</i>
Eraikitze prozesuaren zehazte grafikoa: eragiketa grafiko egokiak, zorrotasuna ebazte-prozesuan, koherentzia prozeduran...	<i>3 puntu</i>
Eragiketa grafikoak argi eta zehatz adieraztea: datu esplizituak eta inplizituak adieraztea, deskripzio-baliabide argi eta egokiak erabiltzea...	<i>3 puntu</i>
Irudikatze formal egokia: argitasuna, ordena, zehaztasuna, garbitasuna, trazu-segurtasuna...	<i>2 puntu</i>

Adierazleak: 1.2 / 1.4 / 1.5



Universidad del País Vasco Euskal Herriko Unibertsitatea

UNIBERTSITATERA SARTZEKO
HAUTAPROBAK 25 URTETIK
GORAKOAK

2014ko MAIATZA

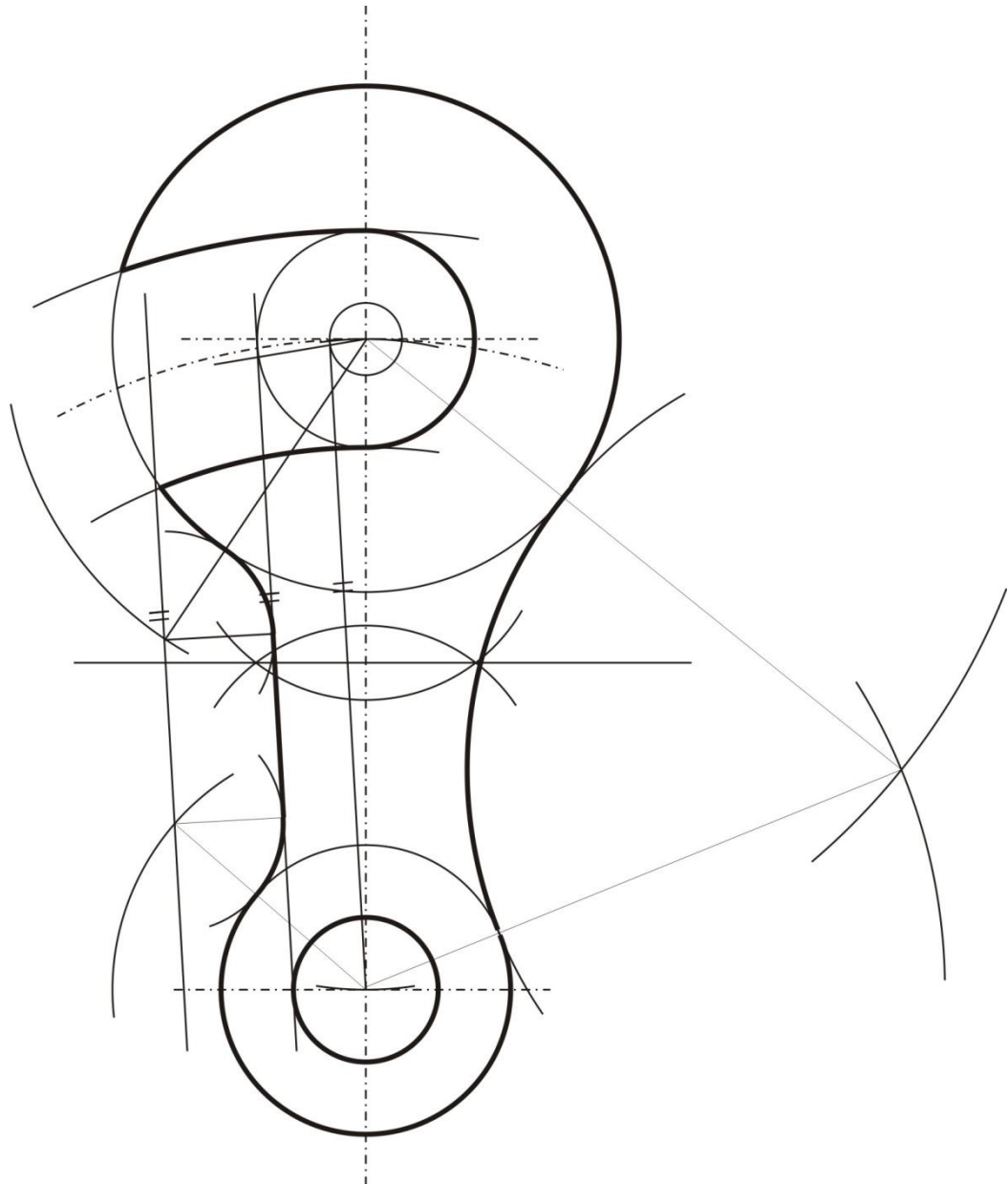
MARRAZKETA TEKNIKOA

PRUEBAS DE ACCESO A LA
UNIVERSIDAD PARA MAYORES
DE 25 AÑOS

MAYO 2014

DIBUJO TÉCNICO

Prozesua





B AUKERA

Formak konfiguratzeko problemak grafikoki ebaztea: 10 puntu.

Planteamendu zuzen egitea: aurkezten den galdera ulertzea, proposatutakora doitzea....	2 puntu
Eraikitze prozesuaren zehazte grafikoa: eragiketa grafiko egokiak, zorroztasuna ebazte-prozesuan, koherentzia prozeduran...	3 puntu
Eragiketa grafikoak argi eta zehatz adieraztea: datu esplizituak eta implizituak adieraztea, deskripzio-baliabide argi eta egokiak erabiltzea...	3 puntu
Irudikatze formal egokia: argitasuna, ordena, zehaztasuna, garbitasuna, trazu-segurtasuna...	2 puntu

Adierazleak: 2.1 / 3.1



Universidad del País Vasco Euskal Herriko Unibertsitatea

UNIBERTSITATERA SARTZEKO
HAUTAPROBAK 25 URTETIK
GORAKOAK

2014ko MAIATZA

MARRAZKETA TEKNIKOA

PRUEBAS DE ACCESO A LA
UNIVERSIDAD PARA MAYORES
DE 25 AÑOS

MAYO 2014

DIBUJO TÉCNICO

Prozesua

