

PRUEBA DE ACCESO A LA UNIVERSIDAD  
MAYORES DE 25 AÑOS

# PRUEBA ESPECÍFICA

PRUEBA 2021

**GEOGRAFÍA**

PRUEBA

SOLUCIONARIO






GEOGRAFÍA

TIEMPO DE DURACIÓN DE LA PRUEBA: 1 HORA

1.- COMENTA BREVEMENTE LA SIGUIENTE IMAGEN (2'5 PUNTOS)



2.- DESARROLLA EL SIGUIENTE TEMA (3 PUNTOS)

- CORDILLERAS EXTERIORES A LA MESETA.

3.- DEFINE LOS SIGUIENTES TÉRMINOS: (ELIGE 3)  
(TOTAL 1'5 PUNTOS)

1. Meseta.
2. Cuenca sedimentaria.
3. Solana.
4. Estiaje.
5. Baby-Boom
6. Tómbolo



Universidad del País Vasco Euskal Herriko Unibertsitatea

UNIBERTSITATERA SARTZEKO  
HAUTAPROBAK 25 URTETIK  
GORAKOAK

2021eko MAIATZA

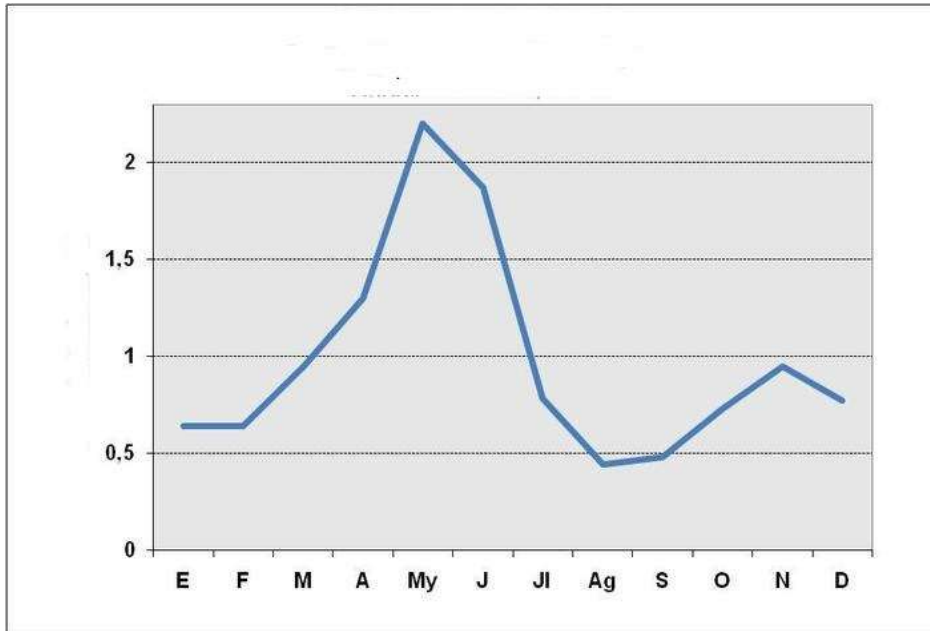
**GEOGRAFIA**

PRUEBAS DE ACCESO A LA  
UNIVERSIDAD PARA MAYORES  
DE 25 AÑOS

MAYO 2021

**GEOGRAFÍA**

4. COMENTA BREVEMENTE EL SIGUIENTE GRÁFICO. (RÉGIMEN FLUVIAL). (3 PUNTOS)






## SOLUCIONARIO GEOGRAFÍA

TIEMPO DE DURACIÓN DE LA PRUEBA: 1 HORA

### SOLUCIONARIO ORIENTATIVO

1.- COMENTA BREVEMENTE LA SIGUIENTE IMAGEN (2'5 PUNTOS)



*Fuente: <http://compendium16.blogspot.com>*

En la imagen se aprecia un paisaje natural montañoso con tres laderas. En la de la derecha abunda la vegetación perenne, en la de la izquierda se mezcla la nieve y la una vegetación progresivamente más escasa, y en el fondo, ganando altura, desaparece la vegetación y aumenta la cantidad de nieve. Por lo que se puede apreciar en la imagen a la zona le corresponde un clima de alta montaña con su correspondiente vegetación característica.

El relieve es montañoso con mucha pendiente, sin intervención humana apreciable.

2.- DESARROLLA EL SIGUIENTE TEMA (3 PUNTOS)

- CORDILLERAS EXTERIORES A LA MESETA.



Los Pirineos, las cordilleras Béticas, los Montes Vascos y la cordillera Costero-Catalana; todas ellas comparten el mismo origen, ya que se formaron por la acción de la orogénesis alpina.

Pirineo Axial. [...]

Prepirineo. [...]

La cordillera Penibética. [...]

La cordillera Subbética. [...]

La depresión Intrabética. [...]

Los Montes vascos. [...]

Cordillera Litoral. [...]

Depresión Prelitoral. [...]

Cordillera Prelitoral. [...]

3.- DEFINE LOS SIGUIENTES TÉRMINOS: (ELIGE 3)  
(TOTAL 1'5 PUNTOS)

1. Meseta.

Zona ondulada o de cima plana, de gran relieve, rodeada normalmente por laderas descendentes empinadas.

2. Cuenca sedimentaria.

Depresión cerrada de la corteza terrestre con pendientes muy lisas.

3. Solana.

Ladera de colinas o montañas orientada al sur (en el hemisferio norte), que recibe mayor insolación que la ladera orientada al norte (umbría).

4. Estiaje.

Caudal mínimo que en ciertas épocas del año tienen las aguas de un río.

5. Baby-Boom

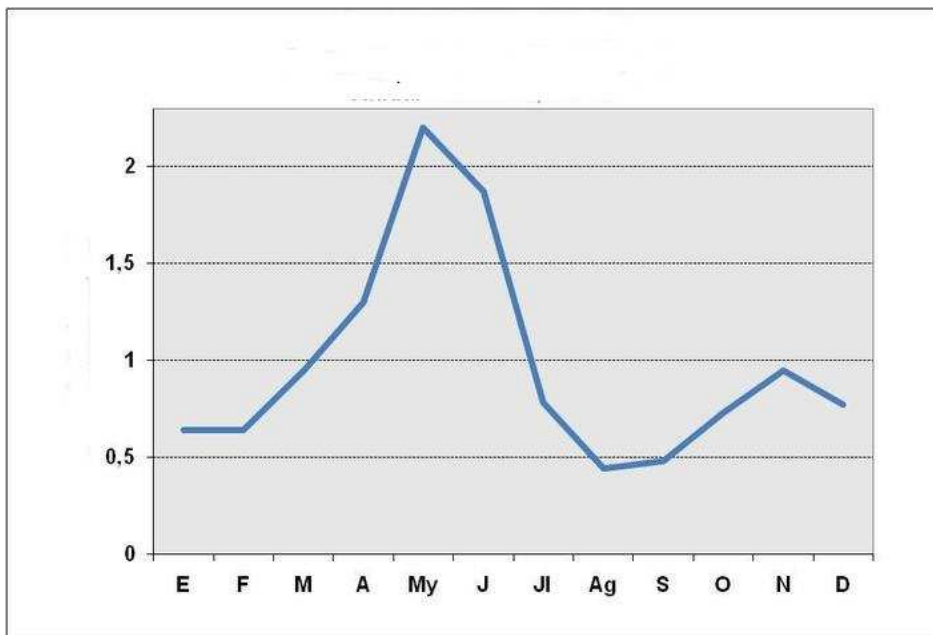
Explosión de natalidad (en inglés baby boom) define el fenómeno demográfico ocurrido durante el período comprendido entre 1946 y 1964 tras la Segunda Guerra Mundial y caracterizado por un incremento notable de la natalidad.

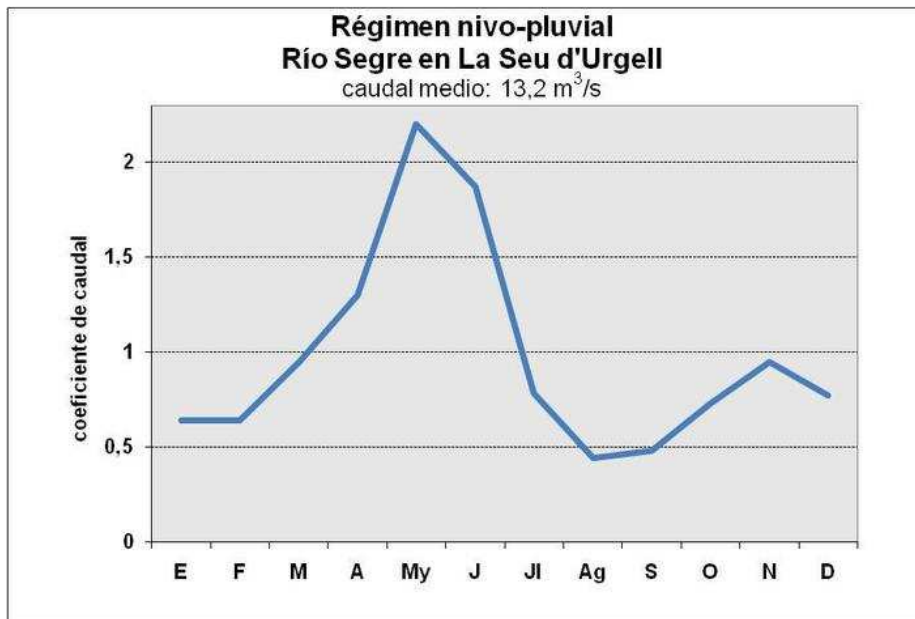
6. Tómbolo.

Istmo o barra de arenas o gravas que une una isla o islote con la costa.



4. COMENTA BREVEMENTE EL SIGUIENTE GRÁFICO. (RÉGIMEN FLUVIAL). (3 PUNTOS)





Se trata de un régimen nival. El río es alimentado mayoritariamente por las precipitaciones en forma de nieve, lo que supone una fuerte reducción de caudal en invierno y, a causa del deshielo, aguas altas en primavera o comienzos del verano; por encima de los 2.500 m de altura el deshielo puede darse en pleno verano.

Este régimen es propio de los ríos de alta montaña, como los del Pirineo Central. [...]



Universidad del País Vasco Euskal Herriko Unibertsitatea

UNIBERTSITATERA SARTZEKO  
HAUTAPROBAK 25 URTETIK  
GORAKOAK  
2021eko MAIATZA  
**GEOGRAFIA**

*PRUEBAS DE ACCESO A LA  
UNIVERSIDAD PARA MAYORES  
DE 25 AÑOS*  
MAYO 2021  
**GEOGRAFÍA**

CORRESPONDENCIA DE LAS CUESTIONES CON EL  
CURRÍCULUM

CUESTIÓN	BLOQUES DE CONTENIDO
Nº 1	Bloque 1
Nº 2	Bloque 3
Nº 3	Bloques 1 al 5
Nº 4	Bloque 3